




عينك .. عينك

الفرق بين الصورتين واضح لنا..
فما الاختلافات الخمسة بنظرك وبأسرع وقت؟



الكلمات المتقاطعة



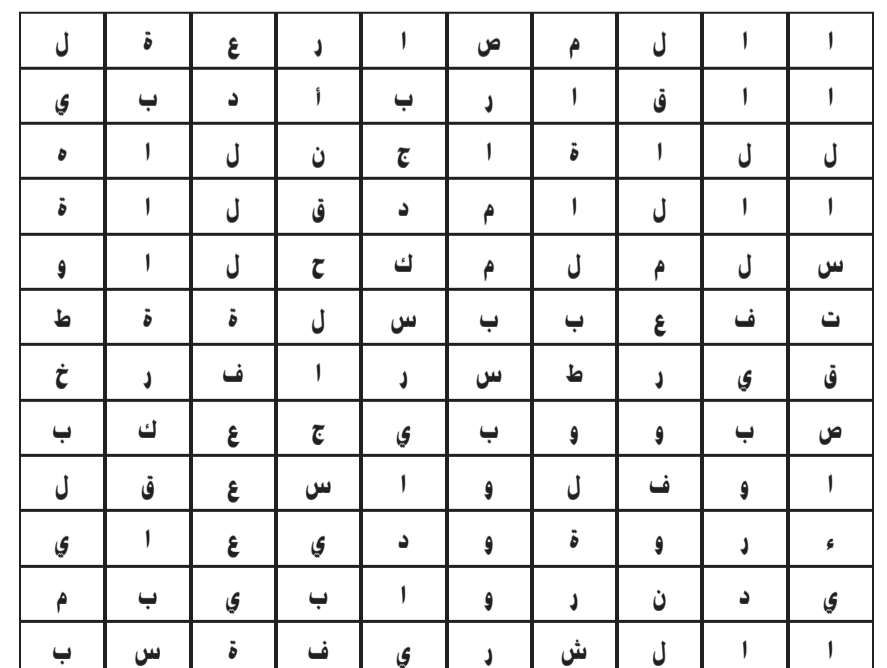
أفقياً:

1 - أنيش التراب (معكوسة) - علل كلامه، 2 - يرشد (معكوسة) - عقل - من العلوم (معكوسة)، 3 - مطرب عربي، 4 - الكلمة (معكوسة) - مل، 5 - أنقال، 6 - أعوم (معكوسة) - متشابهة، 7 - علامة موسيقية (معكوسة) - حن - متشابهان، 8 - عكس قسوة (معكوسة) - مهرب (معكوسة)، 9 - والده - وقت وأوان (معكوسة) - المنيل - فقد الحركة (معكوسة)، 10 - الوسخ (معكوسة) - واجه (معكوسة).

عمودياً:

1 - منطقة كويتية، 2 - حيوان قطبي - حقل - نفض كويتي، 3 - حدائق - مرض يصيب العيون، 4 - عكس جواربي، 5 - حرث - عكس الباطل (معكوسة)، 6 - الكسول، 7 - قمع - عكس الفراق (معكوسة) - واهجر، 8 - يتوج، 9 - إحصان (معكوسة) - المنيل (معكوسة)، 10 - لقياس الوزن - عاصمة عربية.

كلمة السر



من استعدادات ما قبل الفوص من 6 أحرف

الاستقصائي	ميل	دروبي	الحكم	واسع
المصارعة	بيدا	المعروفون	سلة	عجيب
الشريفة	بخطوة	كرة	روابي	
سياق	قارب	القدم	وديع	
الألف	النجاة	البطولة	فارس	

آثار عربية وإسلامية

مسجد القيروان

بناه عقبة بن نافع الفهري 55هـ - 675م ولذلك يعرف بمسجد (سيدي عقبة) ولم يقتصر المسجد على الصلاة فقط، بل كان قاعة للشؤون السياسية والعلمية وتوافرت فيه كل الشروط التي يحتاجها المؤمنون في أثناء العبادة بما يحويه من المآذن والمحاريب والمناير وحياض الماء ويعتبر المسجد نموذجاً للأبنية في المغرب العربي ويقال إن عقبة بن نافع أقام الصلاة في مكان المسجد قبل بنائه واختار النقطة التي يكون فيها المحراب باتجاه مكة. وقد اكتفى في هذا المسجد بظلة القبلة وقد أضيفت للمسجد زيادات عديدة مثل المئذنة التي انشأها بشر بن صفوان على وسط الحائط الشمالي فيما بين 105 و109هـ ثم هدم المسجد على يد يزيد بن حاكم فيما عدا المحراب وأعيد بناؤه سنة 157هـ ثم أعاد زيادة الله الأغلب بناء المسجد مرة أخرى سنة 221هـ وحفظ المحراب الذي بناه عقبة بين حائطين. أما أهم الإضافات فهي التي تمت في عهد الأغلبة فيما بين 248 و261هـ لذلك يطلق عليه مسجد (الأغلبة)، حيث تمت كسوة المحراب بالرخام الملون وزين إطاره ببلاطات من الخزف ذي البريق المعدني كما أقيمت قبة فوق المحراب تركز على 32 عموداً من الرخام تزخرفها من الداخل نقوش إسلامية بدعية.

تخطيط المسجد

يأخذ المسجد شكل مستطيل غير متساوي الأضلاع عرضه 77 متراً وطوله 126 متراً ينقسم المسجد إلى قسمين: رواق القبلة المستطيل يقارب طوله 18 متراً وعرضه 37,3 متراً والصحن 67x56 أما رواق القبلة فيتكون من 17 بلاطة يفصلها 16 بانكة بكل بانكة 6 عقود تتكون من 414 عموداً من الرخام العمودي على جدار القبلة تقف عند بانكة مستعرضة تتقدم الجدار كما كانت هناك بانكتان مستعرضتان تسير أحدهما وراء واجهة ظلة القبلة على الصحن وتسير الثانية في وسط المسافة بين البانكتين المستعرضتين السابقتين وبلاطة المحراب أوسع من باقي البلاطات ويعلو محراب المسجد عقد على شكل حدوة الفرس ويكتنف المحراب عمودان تيجانها من الطراز البيزنطي. ولا ينتصف المحراب ضلع المسجد تماماً فهو يحدد يسرة عن المحور مقدار مترين ونصف ويترسم في نصف دائرة قطرها متران، وجدير بالذكر أن قبلة المسجد وحائط المحراب لم تتغير منذ ركن عقبة لواءه فيه وذلك على الرغم من ميلها عن اتجاه القبلة، كذلك فإن سقف المسجد وجدرانه مازالت كما هي منذ أيام بشر بن صفوان.

من كتاب: أبرز الآثار العربية والإسلامية - منى عطية

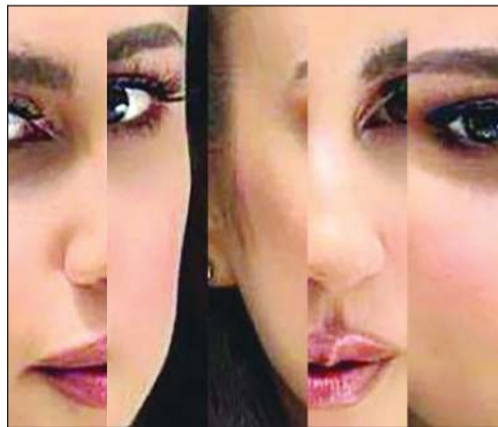
كلام من ذهب

وعند جهينة الخبر اليقين

يروى أن حصين بن عمر الكلابي والأخفش الجهني خرجا إلى الصيد يوماً فصادفهما وعل فسدد كل منهما سهمه إليه فأصيب الوعل بجرح فطارده معاً، وقد استطاع الأخفش التمكن منه فاختلفا وتشاجرا كل يدعي أن سهمه قد أصابه، وبينما هما يتخاصمان فجأاً الجهني صاحبه الكلابي بطعنة أودت بحياته فظلت زوجة الكلابي تنتظره طوال الليل وفي الصباح أخبرت قبيلته فذهبت تفتش عنه فلقيته مقتولاً دون معرفة القاتل، وقد ظلت (صخرة) امرأة حصين الكلابي تكيه في كل موسم. وفي ذات يوم وبينما كان الجهني سكراناً أنشد أبياتاً من الشعر. ولما سمعت صخرة بشعر الجهني طالبت به بدم زوجها وأحضر أمام مجلس العشيرة فاعترف بقتله إياه، فذهب قوله مثلاً لمن عنده علم بما خفي من الأمور.

من كتاب: كلام من ذهب - إعداد: حفيظ الراجحي

اعرف شخصيتك



حل كلمة السر

شخصيتك

حل اعرف الشخصية

شخصيتك

للمراسلة

للتواصل معنا عبر هذه الصفحة
أرسلوا تعليقاتكم على البريد الإلكتروني
archive@alanba.com.kw
فاكس 22272830

كيف تلعب؟

Sudoku

لهواة هذه التسلية المفيدة والمتعة، 3 ألعاب سودوكو من مستويات متعددة: عادي، متوسط، متقدم. ضع بكل بساطة الأرقام من 1 إلى 9 في كل مربع خال، وذلك حتى يحتوي كل عمود وخط أفقي وكل مربع صغير 3x3 على الأعداد من 1 إلى 9 مرة واحدة فقط. يجب ألا يظهر أي رقم مرتين في أي عمود، أو خط أفقي، أو مربع صغير 3x3.

المستوى العادي

4	7	6			2	8
6		8	7	5		4
3				5		6
8		3	7			5
7			2	9	6	
	2	3		6		
					3	9
		6	7	5	2	4
		8	4	6		2

المستوى المتوسط

	1				6	4
			7	9		
8		6		3		
6		8		4	2	9
	2		9			5
		4	2	5		
4	6	2		8		9
				1		6
3			6	7		2
						4

المستوى المتقدم

		9		6			1
8		3		1			
					4		
3	5		2		8		4
				6			9
		7	3		1		
			9	4		7	5
			5		9		8
		7			2		

الحل

2	9	7	6	8	9	7	8	1		4	7	9	2	8	6	7	5
1	7	8	2	5	7	9	6	3		8	4	6	1	7	5	9	2
6	8	9	1	8	7	9	2	2		3	5		6	8	4	1	7
7	8	7	9	6	1	8	2	5		9	8	1	7	8	4	7	9
8	9	6	8	2	5	1	7	2		4	6	9	1	2	8	7	5
5	1	2	7	4	8	6	9	8		5	6	7	1	8	2	9	3
9	7	5	7	1	2	8	6	3		2	6	4	7	1	9	5	8
4	6	8	9	7	8	2	1	9		1	5	8	6	9	7	4	2
8	2	1	4	9	6	7	2	5		4	7	9	2	5	8	6	1

حل عينك .. عينك



حل الكلمات المتقاطعة

1- أنيش التراب (معكوسة) - علل كلامه، 2- يرشد (معكوسة) - عقل - من العلوم (معكوسة)، 3- مطرب عربي، 4- الكلمة (معكوسة) - مل، 5- أنقال، 6- أعوم (معكوسة) - متشابهة، 7- علامة موسيقية (معكوسة) - حن - متشابهان، 8- عكس قسوة (معكوسة) - مهرب (معكوسة)، 9- والده - وقت وأوان (معكوسة) - المنيل - فقد الحركة (معكوسة)، 10- الوسخ (معكوسة) - واجه (معكوسة).

شخصيتك